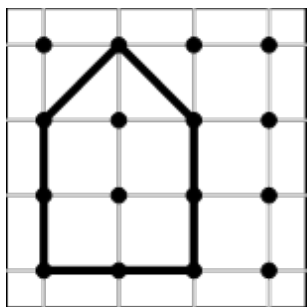


Geobrettfigur auslegen

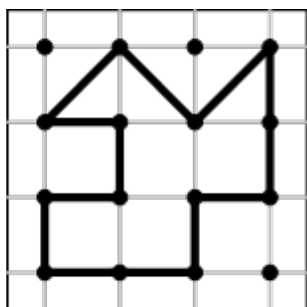
Du hast Dreiecke und Quadrate dieser Größe zum Auslegen.



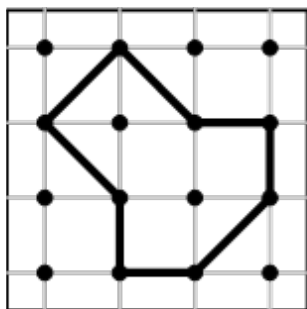
Wie viele Formen brauchst du? Schreibe eine Möglichkeit auf.



und



und



und

