
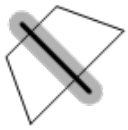

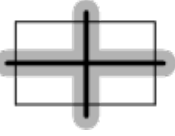




Spiegelachsen

<p>RICHTIG</p>	<div style="display: flex; flex-wrap: wrap;"> <div style="width: 50%;"> <p>a) </p> </div> <div style="width: 50%;"> <p>d) </p> </div> <div style="width: 50%;"> <p>b) </p> </div> <div style="width: 50%;"> <p>e) </p> </div> <div style="width: 50%;"> <p>c) </p> </div> <div style="width: 50%;"> <p>f) </p> </div> </div> <p>Die Zeichnung ist korrekt (vgl. Lösungsgrafik a, Toleranzbereich von 2 mm zu jeder Seite ist grau markiert).</p>
<p>RICHTIG</p>	<p>Die Zeichnung ist korrekt (vgl. Lösungsgrafik b, Toleranzbereich von 2 mm zu jeder Seite ist grau markiert).</p>
<p>RICHTIG</p>	<p>keine Spiegelachse eingezeichnet (vgl. Lösungsgrafik c). Die Teilaufgabe c gilt nur dann als richtig gelöst, wenn mindestens eine der Aufgaben a), b), d) oder f) bearbeitet wurde. Wenn keine dieser Aufgaben bearbeitet wurde, gilt die Teilaufgabe c ebenfalls als nicht bearbeitet.</p>
<p>RICHTIG</p>	<p>Die Zeichnung ist korrekt (vgl. Lösungsgrafik d, Toleranzbereich von 2 mm zu jeder Seite ist grau markiert).</p>
<p>RICHTIG</p>	<p>keine Spiegelachse eingezeichnet (vgl. Lösungsgrafik e). Die Teilaufgabe e gilt nur dann als richtig gelöst, wenn mindestens eine der Aufgaben a), b), d) oder f) bearbeitet wurde. Wenn keine dieser Aufgaben bearbeitet wurde, gilt die Teilaufgabe e ebenfalls als nicht bearbeitet.</p>
<p>RICHTIG</p>	<p>Die Zeichnung ist korrekt (vgl. Lösungsgrafik f, Toleranzbereich von 2 mm zu jeder Seite ist grau markiert).</p>