


---

## Spiegelachsen

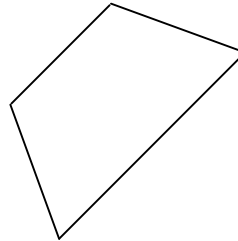
---

Prüfe bei jeder Figur, ob sie keine, eine oder mehrere Spiegelachsen hat.  
Zeichne sie gegebenenfalls ein.

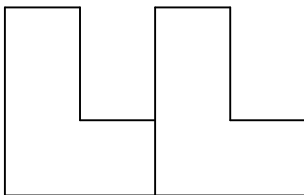
a)



b)



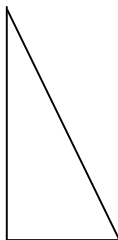
c)



d)



e)



f)

