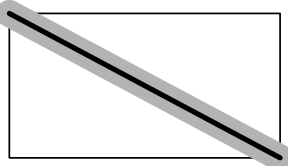
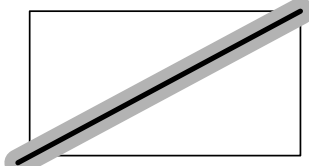
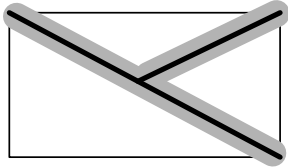
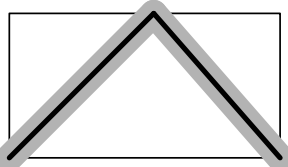
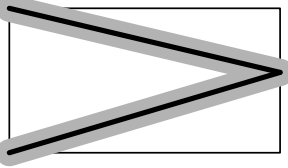
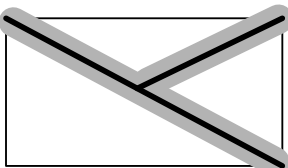
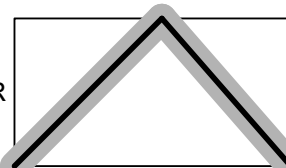
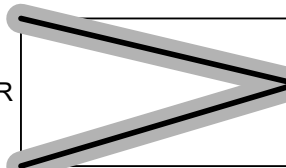


## Linien in ein Rechteck einzeichnen

### Teilaufgabe 1:

RICHTIG	Die Zeichnung ist korrekt (vgl. Lösungsbeispiel, Toleranzbereich von 2 mm zu jeder Seite ist grau markiert).
	a)  ODER 
	b) 
	ODER 
	ODER 

### Teilaufgabe 2:

RICHTIG	Die Zeichnung ist korrekt (vgl. Lösungsbeispiele, Toleranzbereich von 2 mm zu jeder Seite ist grau markiert - Toleranzbereich ist insbesondere in den Ecken bedeutsam). Verschiedene Lösungen - auch nichtsymmetrische - sind möglich.
	 ODER  ODER 

### Teilaufgabe 3:

RICHTIG	Die Zeichnung ist korrekt (vgl. Lösungsbeispiel, Toleranzbereich von 2 mm zu jeder Seite ist grau markiert).
---------	--

	<div><div></div><div></div></div>	ODER	<div><div></div><div></div></div>
--	-----------------------------------	------	-----------------------------------