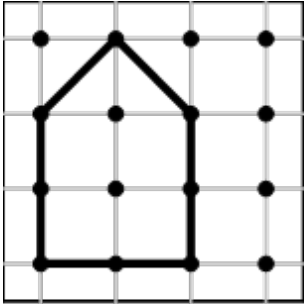




Geobrettfigur auslegen

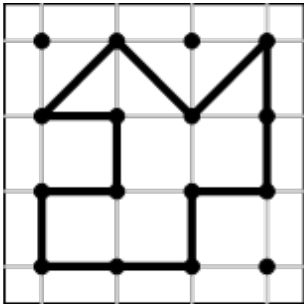
Du hast Dreiecke und Quadrate dieser Größe zum Auslegen.





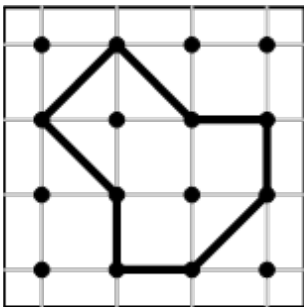
Wie viele Formen brauchst du? Schreibe eine Möglichkeit auf.




_____  und _____ 



_____  und _____ 



_____  und _____ 