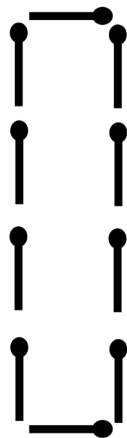

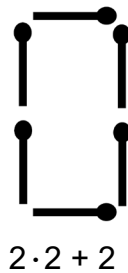
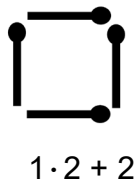


Streichhölzer

Hier siehst du eine Folge von Figuren.

Platz zum Zeichnen



a) Schreibe die Rechnung zur 4. Figur auf.



b) Zeichne die 6. Figur der Musterfolge auf.