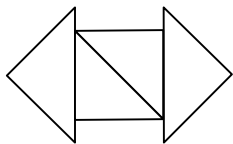
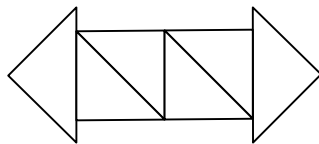


Kompetenzbereich Muster und Strukturen

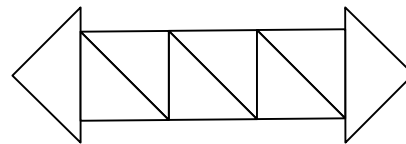
Ein Wurm aus Dreiecken wächst von Tag zu Tag.



1.Tag



2.Tag



3.Tag

Tag	Dreiecke
1.	4
2.	6
3.	8

a) Wie viele Dreiecke benötigt man für den 4. Tag?

Antwort: _____ Dreiecke

b) Wie viele Dreiecke benötigt man für den 10. Tag?

Antwort: _____ Dreiecke

c) Wie viele Dreiecke benötigt man für den 100. Tag?

Antwort: _____ Dreiecke

