

Gemeinsame Abituraufgabenpools der Länder

Pool für das Jahr 2017

Aufgabe für das Fach Mathematik

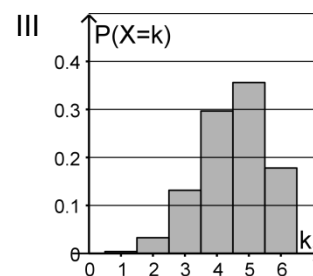
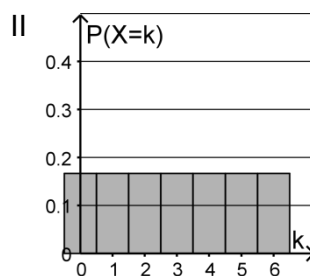
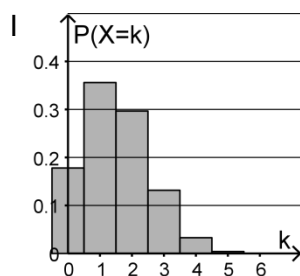
Kurzbeschreibung

Anforderungsniveau	Prüfungsteil	Sachgebiet	Aufgabengruppe
erhöht	A	Stochastik	1

1 Aufgabe

Jedes Überraschungsei eines Herstellers enthält entweder eine Figur oder keine Figur, wobei der Anteil der Überraschungseier mit einer Figur 25 % beträgt.

- a** Zehn Überraschungseier werden nacheinander zufällig ausgewählt. Geben Sie einen Term zur Berechnung der Wahrscheinlichkeit dafür an, dass nur in den letzten beiden Überraschungseiern jeweils eine Figur enthalten ist. 2
- b** Sechs Überraschungseier werden zufällig ausgewählt. Die Zufallsgröße X gibt an, wie viele dieser Überraschungseier eine Figur enthalten. Eine der folgenden Abbildungen stellt die Wahrscheinlichkeitsverteilung dieser Zufallsgröße X dar: 3



Geben Sie an, welche Abbildung dies ist. Begründen Sie, dass die beiden anderen Abbildungen dies nicht sind.

BE

5

2 Erwartungshorizont

Der Erwartungshorizont stellt für jede Teilaufgabe dar, in welchem Umfang und in welcher Form eine Lösung erwartet wird; nicht alle Lösungen sind dazu vollständig ausgeführt. Nicht dargestellte korrekte Lösungen sind als gleichwertig zu akzeptieren.

		BE
a	$0,75^8 \cdot 0,25^2$	2
b	Die Wahrscheinlichkeitsverteilung von X zeigt Abbildung I. X ist binomialverteilt, der Erwartungswert von X ist $6 \cdot 0,25 = 1,5$. Abbildung II zeigt eine Gleichverteilung, Abbildung III eine Verteilung mit einem Erwartungswert, der größer als 1,5 ist.	3
		5

3 Standardbezug

Teilaufg.	BE	Leitideen					allgemeine mathematische Kompetenzen ¹					
		L1	L2	L3	L4	L5	K1	K2	K3	K4	K5	K6
a	2					X			I		I	
b	3		X		X	X	II		II	II		

4 Bewertungshinweise

Die Bewertung der erbrachten Prüfungsleistungen hat sich für jede Teilaufgabe nach der am rechten Rand der Aufgabenstellung angegebenen Anzahl maximal erreichbarer Bewertungseinheiten (BE) zu richten.

Für die Bewertung der Gesamtleistung eines Prüflings ist passend zur Konzeption der Aufgaben der Aufgabensammlung und des Abituraufgabenpools ein Bewertungsraster² vorgesehen, das angibt, wie die in den Prüfungsteilen A und B insgesamt erreichten Bewertungseinheiten in Notenpunkte umgesetzt werden.

¹ Für jede Kompetenz, die bei der Bearbeitung der Teilaufgabe eine wesentliche Rolle spielt, ist der Anforderungsbereich (I, II oder III) eingetragen, in dem die Kompetenz benötigt wird.

² Das Bewertungsraster ist Teil des Dokuments „Beschreibung der Struktur“, das auf den Internetseiten des IQB zum Download bereitsteht.